

Aufgabenplan

Fach: Geografie

Klasse: 6b, 6c

Zeitraum: 26.04.2021 – 07.05.2021



Kontaktdaten Lehrkraft:

Mail: maedel@sks-duerer-merseburg.bildung-lsa.de

Weiterhin auch über Discord erreichbar: Frau Mädels # 7801

Woche 1: 26.04.2021 – 30.04.2021

Aufgaben und Hinweise	zu erledigen bis	Zeitpunkt für Online- Unterricht (Chat, Video- oder Sprachtelefonie)	Abgabe bis/ Benotung vorgesehen
Thema: Die Alpen ein Hochgebirge	30.04.2021	Anruf/ Nachricht über Discord und Mail jederzeit möglich (8-14 Uhr)	Keine Abgabe

Woche 2: 03.05.2021 – 07.05.2021 (26.05.2021)

Aufgaben und Hinweise	zu erledigen bis	Zeitpunkt für Online- Unterricht (Chat, Video- oder Sprachtelefonie)	Abgabe bis/ Benotung vorgesehen
Thema: Muscheln im Alpengestein – Die Entstehung der Alpen	07.05.2021	Anruf/ Nachricht über Discord und Mail jederzeit möglich (8-14 Uhr)	Abgabe bis 07.05.2021 12 Uhr per Mail oder in der Schule/ Benotung

Woche 1: 26.04 - 30.04.2021

Thema: Die Alpen ein Hochgebirge

1. Lies Lb.S.44,45 erneut.
2. Vergleiche deine Hausaufgaben zum Thema mit Hilfe des folgenden Links.
<https://emucloud.bildung-lsa.de/index.php/s/P3aWrQWqYkADQFN> Passwort: Mädel5

Woche 2: 03.05.2021 – 07.05.2021


Thema: Muscheln im Alpengestein – Die Entstehung der Alpen

Aufgabe: Erläutere, warum man Muscheln im Alpengestein findet anhand der Entstehung der Alpen.

Gehe wie folgt vor:


1. Lies das Lb.S.46, 47 und schau dir die Videos an.
<https://www.youtube.com/watch?v=h2coQ5Z5sug&t=194s>
<https://www.youtube.com/watch?v=dyaST4pJ0d4>
2. Fülle den Lückentext zur Entstehung der Alpen auf dem Arbeitsblatt *M1* aus. Setze dazu die folgenden Begriffe ein **gehoben/ gefaltet/ Meeresboden/Muscheln/ Gesteinsschichten/ Meer/ übereinander/ Alpen/ Druck/ bewegte.**
3. Fertige in den Leerkästchen in *M1* zu jeder Entstehungsstufe eine farbige Skizze an. Nutze dabei ausschließlich Bleistift und Buntstift.

Muscheln im Alpengestein- Die Entstehung der Alpen.




Vor Millionen von Jahren befand sich dort, wo heute die _____ liegen ein _____.


In diesem Meer lebten Korallen, _____ und Fische. Sand- und Kalksteinschichten haben sich auf dem _____ über viele Jahre gesammelt.



Die _____ afrikanische Landmasse _____ sich auf die Mitteleuropäische zu. Dadurch wurde das Meer eingeengt und die _____ zusammengeschoben und _____.



Durch _____ weiter zunehmenden _____ falteten sich die Gesteinsschichten weiter und legten sich teilweise _____.



Durch irdinnere Kräfte wurden die Alpen _____.

Hebung und Abtragung in den Alpen dauern bis heute an.